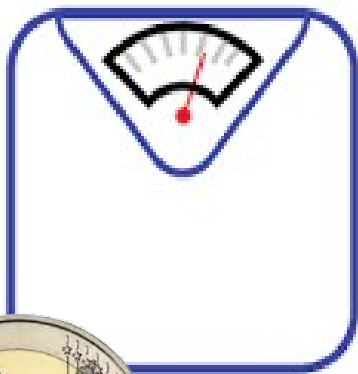
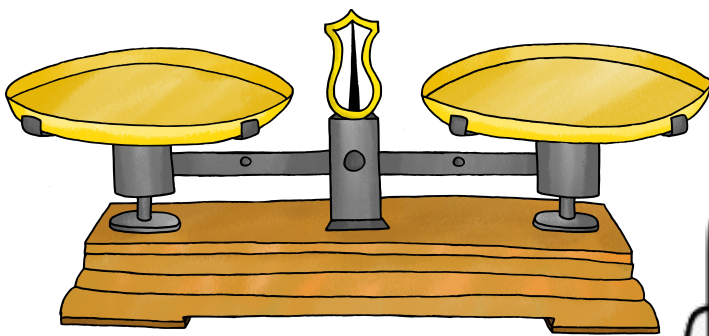


Prénom

Classe de

Mon livre de mesures



20..... / 20.....

Ce livre parle des mesures en mathématiques. Pour mieux comprendre, cherche la signification des mots utilisés en mesures :

Nom ou préfixe	Origine	Sens
mètre	<i>Grec</i>	
gramme	<i>Grec</i>	
litre	<i>Latin</i>	
chrono	<i>Grec</i>	
kilo	<i>Grec</i>	
milli	<i>Latin</i>	
centi	<i>Latin</i>	

LES MESURES DE LONGUEUR

kilomètre	hectomètre	décamètre	mètre	décimètre	centimètre	millimètre
km	hm	dam	m	dm	cm	mm
Plus grand que le mètre				Plus petit que le mètre		

A retenir

1 km = m

1 m = cm

1 cm = mm

Trouve différents instruments pour mesurer des longueurs.

Colle, dessine ou écris un objet qui se mesure avec chaque unité.

km

m

cm

mm

LES MESURES DE MASSE

kilogramme	hectogramme	décagramme	gramme	décigramme	centigramme	milligramme
kg	hg	dag	g	dg	cg	mg
Plus grand que le gramme				Plus petit que le gramme		

Pour les gros objets on utilise la **tonne = t**

A retenir

1 t = kg

1 kg = g

1 g = mg

Trouve différents instruments pour mesurer des masses.

Colle, dessine ou écris un objet qui se pèse avec chaque unité.

t	kg
g	mg

LES MESURES DE CONTENANCE

hectolitre	décalitre	litre	décilitre	centilitre	millilitre
hl	dal	l	dl	cl	ml
Plus grand que le litre			Plus petit que le litre		

A retenir

1 l = ml

1 l = cl

1 dl = cl

Trouve différents instruments pour mesurer des contenances.


Colle, dessine ou écris un objet qui se mesure avec chaque unité.

litre

cl

ml

LES MESURES DE TEMPS



A retenir

1 **siècle** = années

1 **année** = mois

1 **mois** = ou jours sauf le mois de

1 **semaine** = jours

1 **jour** = heures

1 **heure** = minutes

1 **minute** = **secondes**

Trouve différents instruments pour mesurer le temps.

Invente des phrases avec des unités de temps.

.....

.....

.....

LA MONNAIE

A retenir

1 euro = centimes

Colle ou dessine toutes les pièces et billets de notre monnaie.

LA MONNAIE

Colle ou dessine des objets qui ont environ la valeur indiquée.

10 c

1 €

10 €

100 €

1 000 €

5 000 €